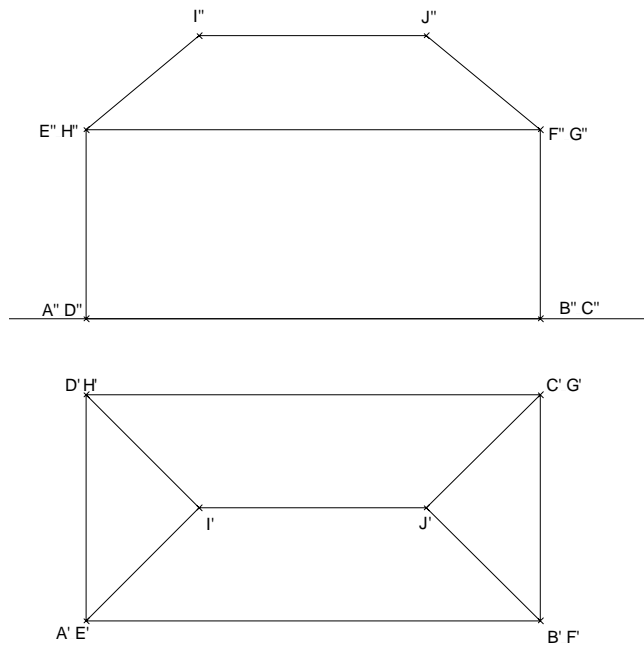
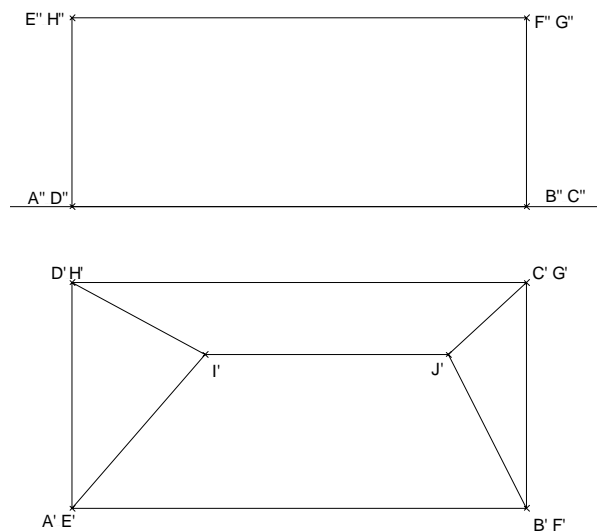


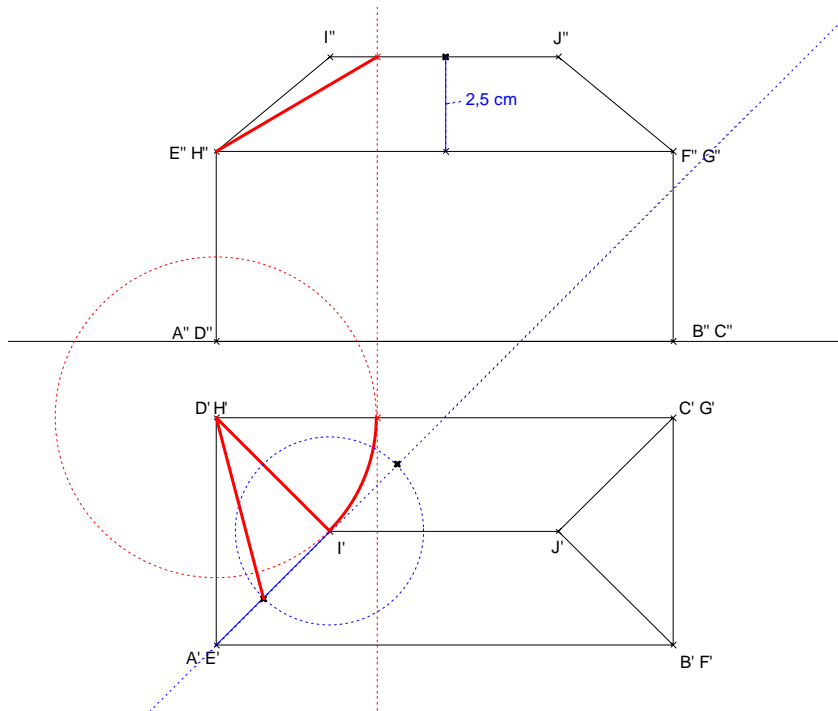
- Bestimmen Sie aus dem Grund- und Aufriss durch Zeichnung die wahre Länge der Dachkante EI.
Zeichnen Sie den Seitenriss.
Maßstab 1:200



- Der Architekt möchte ein etwas kreativeres Haus entwickeln. Der Grundriss und ein Teil des Aufrisses sind gegeben. Der Dachfirst soll trotz Kreativität waagrecht verlaufen. Die wahre Länge der Kante GJ soll 5 m betragen.
Vervollständigen Sie den Aufriss und zeichnen Sie auch noch den Seitenriss.
Maßstab 1:200



Lösung zu 1.



Lösung zu 2.

